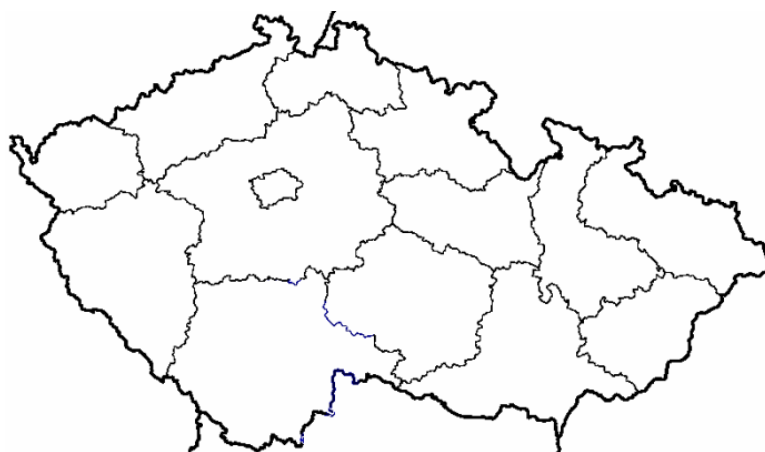


# DIGITÁLNÍ UČEBNÍ MATERIÁL

VY\_32\_INOVACE 84

**Téma vyučovací jednotky: ZEMĚPIS „Středočeský kraj“**

1. Vybarvi na mapě krajů kraj Středočeský<sup>1</sup>.



2. Doplň a podtrhni správné výrazy:

Sázava se vlévá do řeky \_\_\_ L \_\_\_ \_\_\_ Y. Ta se u Mělníka vlévá do \_\_\_ \_\_\_ \_\_\_

E. Pak řeka opouští naše území, protéká N \_\_\_ M \_\_\_ C \_\_\_ \_\_\_ M a ústí do

Severního - Baltského - Černého moře.

3. Zakroužkuj každé třetí písmeno a zjistíš název středočeského města v podhůří vrchoviny Brdy:

C D P U F Ř É Á Í T V B K M R H Š A F G M

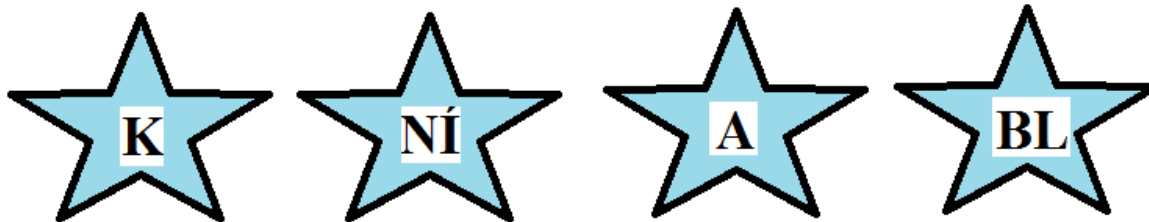


Jmenuje se \_\_\_\_\_

<sup>1</sup> Zdroj obrázku: <http://free-top.tym.cz/images/map/mapa-cr-slepa-kraje.png>



4. Seřaď do správného pořadí hvězdičky a napiš název hory nedaleko Vlašimi. Je opředená bájí o rytířích, co přijdou na pomoc českému národu, až mu bude nejhůře.



5. Středočeský kraj má mnoho památek a zachovalých staveb z minulé doby. Velmi navštěvované jsou hrady Karlštejn, Křivoklát a zámek...<sup>2</sup>

Jméno zámku se dozvíš po vylúštění matematického úkolu.

3	6	8	6	32	42	49	48	63

T = 48

27 : 9 =

K = 3

56 : 7 =

P = 32

36 : 6 =

N = 8

6 x 8 =

O = 6

7 x 6 =

Ě = 63

9 x 7 =

Š = 49

7 x 7 =

I = 42

9 x 4 =



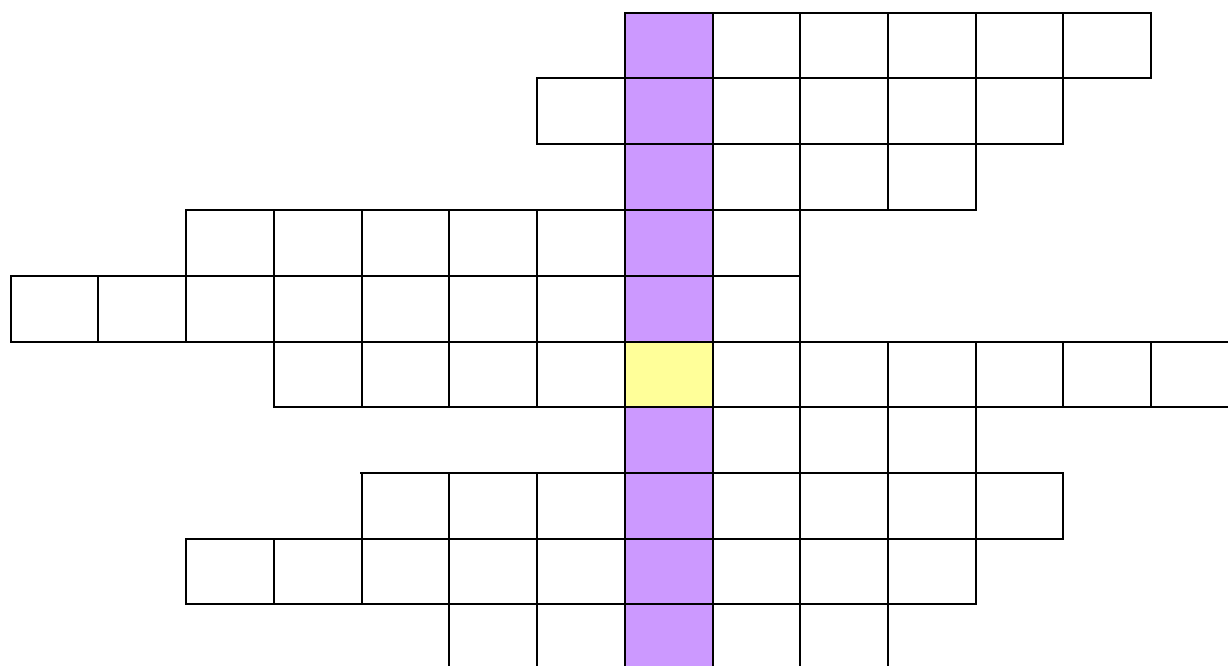
<sup>2</sup> Zdroj obrázku:

[http://www.google.cz/imgres?q=konopi%C5%A1t%C4%9B&hl=cs&safe=off&biw=1366&bih=596&gbv=2&tbm=isch&tbid=KtFY-B\\_KECt8yM:&imgrefurl=http://www.kr-stredocesky.cz/portal/odbory/volny-cas/historie/verejne-pristupne-pamatky/zamek-konopiste.htm&docid=yikP140pss\\_7GM&imgurl=http://www.kr-stredocesky.cz/NR/rdonlyres/82E775F2-7477-4845-B593-469DBDCA07B3/0/konopiste\\_\\_\\_letecky\\_pohled.jpg&w=2288&h=1712&ei=-0pCT\\_WLB83N4Qsqv-GOCA&zoom=1](http://www.google.cz/imgres?q=konopi%C5%A1t%C4%9B&hl=cs&safe=off&biw=1366&bih=596&gbv=2&tbm=isch&tbid=KtFY-B_KECt8yM:&imgrefurl=http://www.kr-stredocesky.cz/portal/odbory/volny-cas/historie/verejne-pristupne-pamatky/zamek-konopiste.htm&docid=yikP140pss_7GM&imgurl=http://www.kr-stredocesky.cz/NR/rdonlyres/82E775F2-7477-4845-B593-469DBDCA07B3/0/konopiste___letecky_pohled.jpg&w=2288&h=1712&ei=-0pCT_WLB83N4Qsqv-GOCA&zoom=1)



6. Najdi v tajence název druhého nejdůležitějšího města českého království hned po Praze.

1. Největší město Středočeského kraje.
2. V Příbrami se nachází hornické ...
3. Název velké automobilky u Kolína vyrábějící auta značek Toyota, Peugeot a Citroen.
4. Chemický závod Spolana se nachází ve městě?
5. Ve Středočeském kraji můžeme navštívit hrad Karlštejn a ...?
6. Název řek které se stékají na Mělníku.
7. Blaník je ... nedaleko Vlašimi?
8. Jaká řeka protéká městem Beroun?
9. Jaké známé lázně leží na řece Labi?
10. Ve kterém městě sídlí krajský úřad Středočeského kraje.



Autorem materiálu a všech jeho částí, není-li uvedeno jinak, je Mgr. Simona Tomášková.



evropský  
sociální  
fond v ČR



EVROPSKÁ UNIE



MINISTERSTVO ŠKOLSTVÍ,  
MLÁDEŽE A TĚLOVÝCHOVY



OP Vzdělávání  
pro konkurenceschopnost