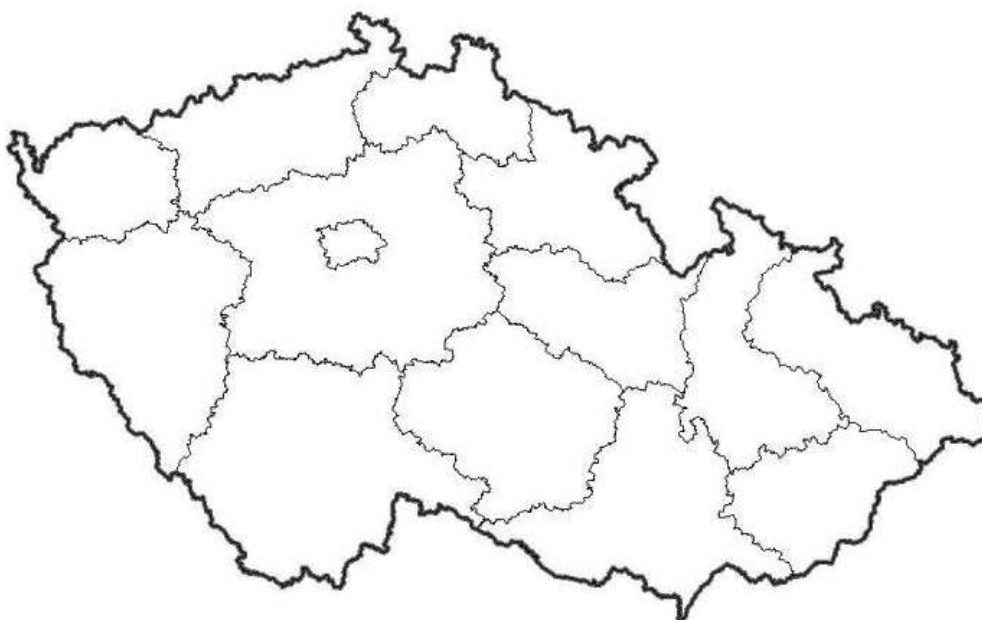


# DIGITÁLNÍ UČEBNÍ MATERIÁL

VY\_32\_INOVACE 94

**Téma vyučovací jednotky: ZEMĚPIS „Poznáváme hory a nížiny naší republiky“**

1. Zapiš do mapy čísla pohoří:



1. Krkonoše
2. Šumava
3. Krušné hory
4. Českomoravská vrchovina
5. Jeseníky
6. Moravskoslezské Beskydy



2. Přiřaď horu ke správnému pohoří.

Šumava	Sněžka (1602 m n. m.)
Krkonoše	Klínovec (1244 m n. m.)
Moravskoslezské Beskydy	Plechý (1378 m n. m.)
Krušné hory	Radhošť (na vrcholu je socha Radegasta)
Český les	Smrk (1124 m n. m.)
Jizerské hory	Luž (793 m n. m.)
Lužické hory	Čerchov (1042 m n. m.)



Napiš, které pohoří je nejvyšší: \_\_\_\_\_

3. Doplně:



Co znamená zkratka CHKO? \_\_\_\_\_

Kde najdeme Boubínský prales? \_\_\_\_\_

Které pohoří je nejbližší naší obci? \_\_\_\_\_

Co znamená zkratka KRNAP? \_\_\_\_\_

Která velká řeka pramení v Krkonoších? \_\_\_\_\_



evropský  
sociální  
fond v ČR



4. Napiš, co se v chráněné krajinné oblasti nesmí:

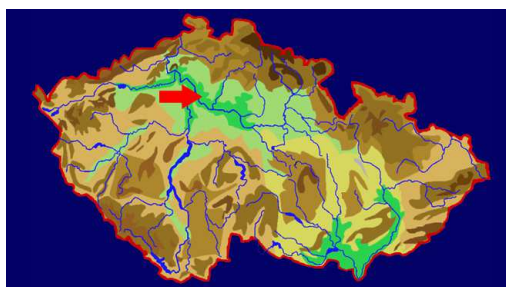


---

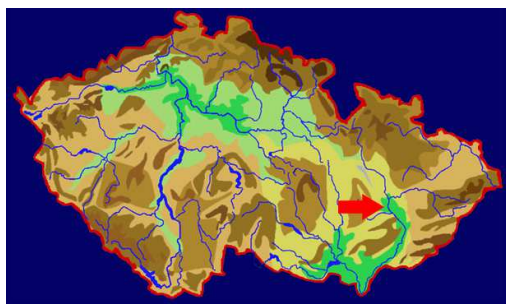
---

---

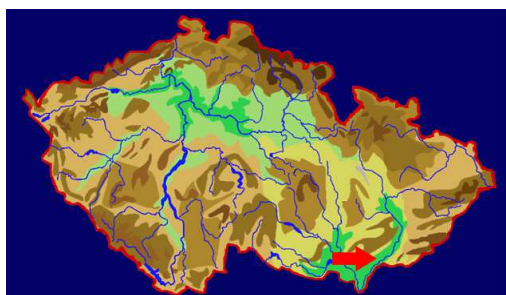
5. Spoj mapku se správným označením názvu místa do kterého směřuje červená šipka.



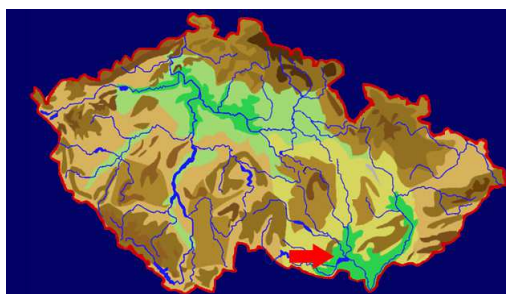
Dyjskosvratecký úval



Polabí



Hornomoravský úval



Dolnomoravský úval



6. Odpovězte na otázky:

Jak se nazývá nejrozsáhlejší česká nížina?

---

Jak lidé pojmenovali nejvyšší pohoří v České republice?

---

Při řece Moravě se prostírají dvě nížiny. Jak se jmenují?

---

Ve kterém pohoří najdeš nejvyšší horu Plechý?

---

Kterým vnitrozemským pohořím protéká řeka Labe?

---

Do kterého pohoří se musíme vydat, abychom vystoupili na Luž?

---

Jak se nazývá nejvyšší hora v Krušných horách?

---

Jak se jmenuje nížina podél řek Svatka a Dyje?

---

Autorem materiálu a všech jeho částí, není-li uvedeno jinak, je Mgr. Simona Tomášková



evropský  
sociální  
fond v ČR



EVROPSKÁ UNIE



MINISTERSTVO ŠKOLSTVÍ,  
MLÁDEŽE A TĚLOVÝCHOVY



OP Vzdělávání  
pro konkurenceschopnost