

DIGITÁLNÍ UČEBNÍ MATERIÁL

VY_32_INOVACE 25

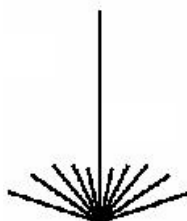
Téma vyučovací jednotky: PŘÍRODOPIS „Byliny a dřeviny“

1. Spoj, co k sobě patří¹

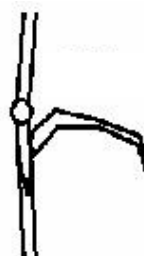
STÉBLO



LODYHA



STVOL



2

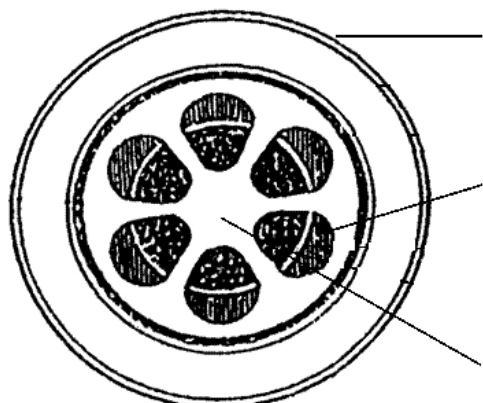


Víš, jak se rostliny na obrázku jmenují?

¹ Zdroj obrázků: http://nd01.jxs.cz/223/172/91045d424c_39191663_o2.jpg

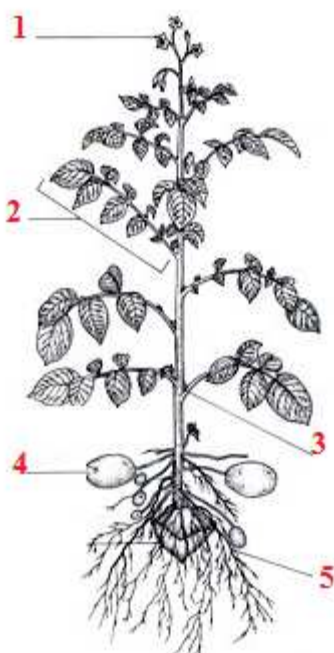
² Zdroj obrázků: <http://www.avicenna.cz/media/obrazky/20040909-LAMIUM.jpg>

2. Popiš stavbu stonku bylin.



Nápověda: pokožka, cévní svazky, dužina

3. Na obrázku vidíš rostlinu, která nese dva stonky. Doplň k číslům názvy jejích částí, napiš její název a doplň věty pod obrázkem.




- 1 _____
- 2 _____
- 3 _____
- 4 _____
- 5 _____

Nadzemní stoněk nese 1 _____ a k _____ .

Pozemní stonky tloustnou v h _____ bohatou na škrob a vitamin C.

4. Doplně podle obrázků a obrázky vybarvi.

Mezi dřevinami rozlišujeme _____ a _____ .



3



Věk stromu lze určit spočítáním _____ na příčném řezu jeho kmene.



Autorem materiálu a všech jeho částí, není-li uvedeno jinak, je Mgr. Simona Tomášková

³ Zdroj obrázku: <http://things.magick.cz/via/images/strom2.jpg>