

DIGITÁLNÍ UČEBNÍ MATERIÁL

VY_32_INOVACE 39

Téma vyučovací jednotky: PŘÍRODOPIS „Hmyz žijící ve vodě a v blízkosti vod“

1. Zakroužkuj každé třetí písmeno a dozvíš se název hmyzu, který žije okolo stojatých vod, je dravcem a loví drobný hmyz v letu nad hladinou.

L N V T E Á B H Ž D R K G S A P U O M B T S E L I C N M N O R Á



1


¹ Zdroj obrázku: <http://www.macro-world.cz/prilohy/dragonfly-info0.gif>



Pojmenuj hmyz na obrázcích:



2



3

2. Spoj šipkami, co k sobě patří:

Vývoj probíhá ve vodě

Dospělý hmyz žije mimo vodu

Larvy a kukly jsou potravou ryb

Živí se krví živočichů

komár pisklavý

ovád hovězí

² Zdroj obrázku: <http://leccos.com/pics/pic/ovadi.jpg>

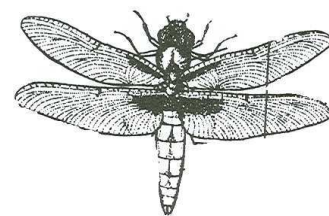

³ Zdroj obrázku: <http://www.rybsvaz.cz/zu/slides/Komarpisklavvy.jpg>

3. Podtrhni správný údaj:

Vážka má vývin přímý x nepřímý
je hmyz s proměnou dokonalou x nedokonalou



Do rámečků napiš, jak za sebou **následují fáze vývinu**:



Larvy komárů se vyvíjejí převážně ve stojatých vodách:

ANO – NE

Autorem materiálu a všech jeho částí, není-li uvedeno jinak, je Mgr. Simona Tomášková