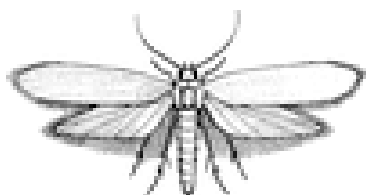


# DIGITÁLNÍ UČEBNÍ MATERIÁL

VY\_32\_INOVACE 40


## Téma vyučovací jednotky: PŘÍRODOPIS „Hmyz žijící v domácnosti“

1. Přiřaď obrázek ke správnému názvu, obrázky vybarvi.



1

VEŠ DĚTSKÁ



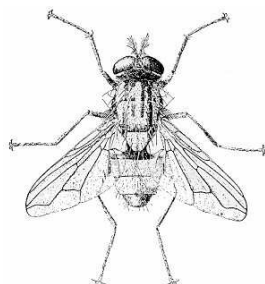
2

MOL ŠATNÍ



3

MOUCHA DOMÁCÍ



4

ŠTĚNICE OBECNÁ

<sup>1</sup> Zdroj obrázku: [http://www.zakonyprolidi.cz/file/data/nahled/2008c116z356p003o023\(N\).png](http://www.zakonyprolidi.cz/file/data/nahled/2008c116z356p003o023(N).png)

<sup>2</sup> Zdroj obrázku: <http://www.stenice-postelni.cz/images/stenice-fotogalerie/stenice-images-05.jpg>

<sup>3</sup> Zdroj obrázku: <http://vsi.nazory.cz/images/ves3.gif>

<sup>4</sup> Zdroj obrázku: [http://entomology.montana.edu/historybug/images/house\\_fly\\_large.jpg](http://entomology.montana.edu/historybug/images/house_fly_large.jpg)

2. Vylušti tajenku a dozvíš se název dalšího zástupce hmyzu žijícího v domácnosti:

V	V	D	Á	V	O
A	L	E	Č	V	B
Ž	L	L	Š	E	CH
K	O	M	Á	R	A
A	M	O	U	CH	A

V osmisměřce hledej hmyz: vážka, komár, ovád, mol, včela, moucha, veš



TAJENKA: \_\_\_\_\_

3. Napiš, čím mohou být nebezpečné vši člověku:



5

\_\_\_\_\_

4. Jak se jmenuje vajíčko vši dětské, zjistíš, když zakroužkuješ každé čtvrté písmeno.

G H J H K L U N Z E Q Í S G K D C Y B Y



TAJENKA: \_\_\_\_\_

Autorem materiálu a všech jeho částí, není-li uvedeno jinak, je Mgr. Simona Tomášková

<sup>5</sup> Zdroj obrázku: [http://www.zbynekmlcoch.cz/informace/images/stories/texty/ves\\_detska\\_normal.jpg](http://www.zbynekmlcoch.cz/informace/images/stories/texty/ves_detska_normal.jpg)